

令和3年度
日章学園
鹿児島育英館高等学校

入学試験問題

社 会

(時間 45 分)

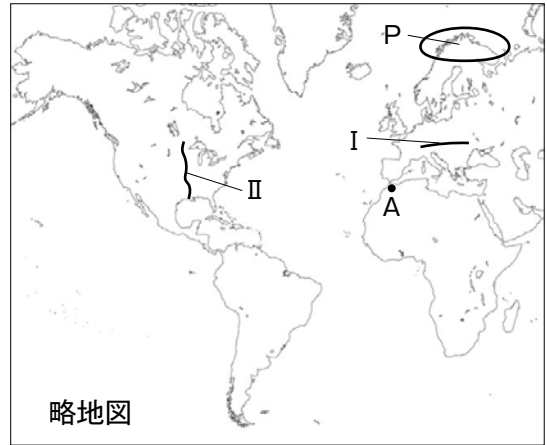
(注 意)

- 1 「始め」の合図があるまで、このページ以外のところを見てはいけません。
- 2 問題は、7 ページです。解答用紙は1 枚です。
- 3 「始め」の合図があったら、まず解答用紙に受験番号、中学校名と氏名を記入しなさい。
- 4 答えは、必ず解答用紙に記入しなさい。
- 5 印刷がはっきりしなくて読めないときは、だまって手をあげなさい。
問題内容や答案作成上の質問は認めません。
- 6 「やめ」の合図があったら、すぐ鉛筆をおき、解答用紙だけを裏返しにして、机の上におきなさい。

1 次の略地図や文を読んで、問1～問10に答えなさい。

1972年、略地図のスウェーデンの首都では、環境に関する①国連人間環境会議が行われた。この会議には113か国の代表が参加し、「かけがえのない地球 Only One Earth」をキャッチフレーズとし、環境問題が人類共通の課題となったことを世界に印象付けた。また、「(ア)船(イ)号」とはこの会議の背景となった考え方で、地球を1つの閉じた共同体にたとえた言葉である。

1992年、略地図のブラジルの旧首都では、環境と開発をテーマとして、172か国の首脳が参加し、国連環境開発会議が行われた。この会議の理念として掲げられたのが、②持続可能な開発である。



略地図

問1 文中の空欄(ア)(イ)に最も適する語をそれぞれ入れなさい。

問2 下線部①の会議で報告された酸性雨の被害として間違っているものを、次の中からすべて選び、記号で答えなさい。

- ア 森林が枯れる イ 皮ふがんの増加 ウ 建物がいたむ エ 海水面が上昇
オ 湖沼の生物が死滅する

問3 下線部②について、近年ニュースや新聞などでも取り上げられる、持続可能な開発目標とは、アルファベットの略称でどう表されるか、次の中から選び、記号で答えなさい。

- ア NGO イ NPO ウ SDGs エ BRICS

問4 略地図中のI・IIはそれぞれ山脈・河川を示したものである。山脈名・河川名の組み合わせとして正しいものを、次の中から選び、記号で答えなさい。

- ア I ロッキー山脈 II ミシシッピ川 イ I ロッキー山脈 II セントローレンス川
ウ I アルプス山脈 II ミシシッピ川 エ I アルプス山脈 II セントローレンス川

問5 略地図中のスウェーデンで夏に見られる、一日中太陽が沈まない現象を何というか。

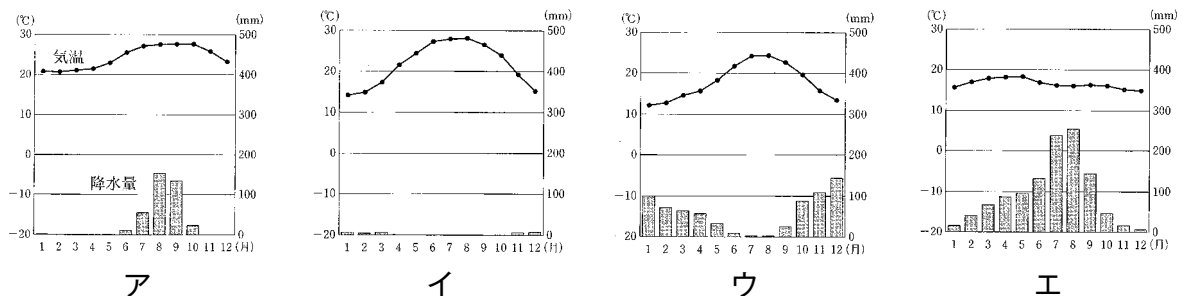
問6 略地図中のブラジルでは、ある農作物を原料としてバイオ燃料が作られ、石油に代わるエネルギーとして、近年生産が拡大している。その作物とは何ですか、答えなさい。

問7 略地図中のブラジルは、多くの鉄鉱石を産出する。次の表は、各鉱産資源の主な産出国をまとめたものです。表中の①～④の中から、鉄鉱石の産出として正しいものを選び、番号で答えなさい。

① (%)		② (%)		③ (%)		④ (%)	
オーストラリア	34.7	オーストラリア	30.4	チリ	30.2	メキシコ	21.4
ブラジル	18.4	中国	22.5	中国	9.0	ペルー	15.3
中国	16.6	ブラジル	12.7	ペルー	8.9	中国	12.3
インド	6.9	ギニア	11.7	アメリカ	7.2	オーストラリア	5.7
ロシア	4.4	インド	8.8	コンゴ民主	5.3	ロシア	5.7

(2020年版地理統計要覧より)

問8 略地図中のAの都市の雨温図として正しいものを、次の中から選び、記号で答えなさい。



問9 略地図中のヨーロッパでは、混合農業という、作物の栽培と家畜の飼育を組み合わせた農牧業が行われている。この地域では、なぜそのような農牧業を行う必要があるのか、簡単に説明しなさい。なお、その際必ず「地力」という言葉を使用すること。


問10 略地図中のPの地域に暮らす人々は、ある家畜の群れとともに過ごす。その家畜として、正しいものを、次の中から選び、記号で答えなさい。



ア



イ



ウ



エ

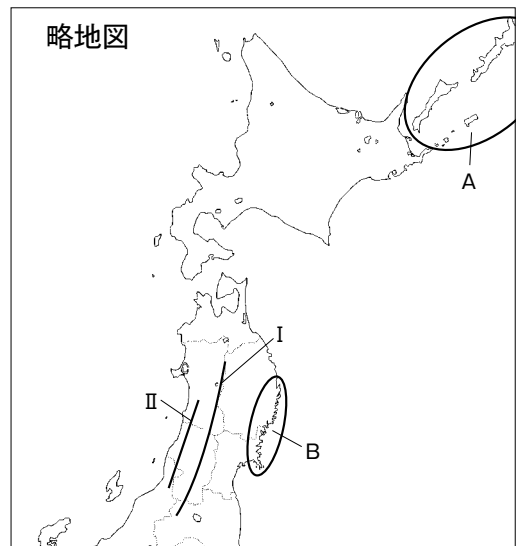
2 次の略地図や文を読んで、問1～問7に答えなさい。

問1 次の文章の空欄に最も適する語句を、漢字4文字で答えなさい。

明治時代、政府は北海道でも稲作をすすめましたが、夏の気温や雨量が十分ではなく、稲を育てることは困難でした。しかし、長年にわたる（ ）の結果、現在では日本有数のコメの生産量を誇ります。

問2 I・IIはそれぞれ山脈・山地・高地を示したものである。山脈名・山地名・高地名の組み合わせとして正しいものを、次の中から選び、記号で答えなさい。

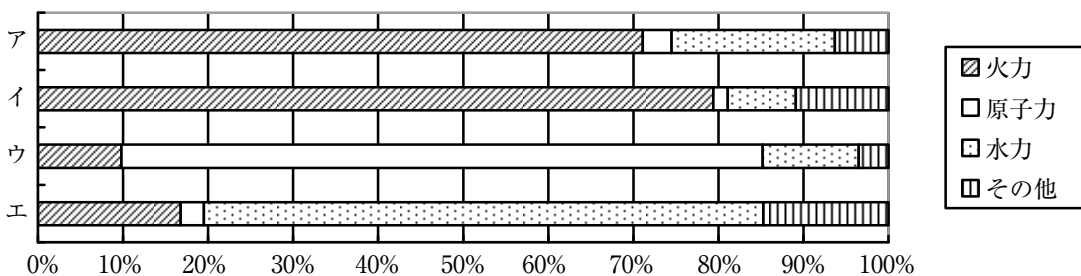
- ア I 奥羽山脈 II 出羽山地
- イ I 出羽山地 II 奥羽山脈
- ウ I 北上山地 II 阿武隈高地
- エ I 阿武隈高地 II 北上山地



問3 Aの島々は、ロシア連邦が占拠し、日本が返還を求めている。この島々を何というか、答えなさい。

問4 略地図中の東北地方には、県名と県庁所在地名が違う県はいくつありますか、数字で答えなさい。また、その県庁所在地名をすべて挙げなさい。

問5 略地図中の東北地方を2011年に襲った東日本大震災により、日本の発電は大きく変わった。次のグラフは現在の日本・フランス・ブラジル・中国の発電エネルギー源別の割合を示したものです。日本に当てはまるものを次から選び記号で答えなさい。



(2020年版地理統計要覧より作成)

問6 略地図中のBの地域では、その地形的な特徴から津波の被害が大きくなるとされている、この地形名を答えなさい。

問7 略地図中の東北地方は、IC（集積回路）の生産がさかんである。そのためこの地方はシリコンロードと呼ばれている。特に、このIC工場は空港や高速道路の近くに立地することが多い。その理由を簡単に説明しなさい。また、その際「輸送」「小型」という言葉を必ず使用しなさい。

3 次の年表をみて、問1～問7に答えなさい。

年代	おもな出来事
1853年	東インド艦隊司令長官が率いる4隻の黒船が浦賀沖に来航する。……①
1858年	日米修好通商条約を結ぶ。
1867年	江戸幕府が滅びる。……②
1889年	大日本帝国憲法が公布される。
1914年	第一次世界大戦が始まる。……③
1920年	国際連盟に加盟する。……④
1939年	第二次世界大戦が始まる。
1945年	アメリカ軍が日本を占領する。……⑤
1953年	奄美群島が日本に復帰する。
1964年	東京オリンピックが開催される。……⑥
1972年	沖縄がアメリカから日本に返還される。……⑦
2011年	東日本大震災が起こる。

問1 ①について、日本に来航したアメリカ東インド艦隊司令長官はだれですか。

問2 ②について、戊辰戦争により江戸幕府は滅びました。江戸幕府最後の将軍はだれですか。

問3 ③について、この戦争が始まった後の出来事として適するものを、次の中から選び、記号で答えなさい。

- ア 米騒動が発生した。 イ 八幡製鉄所がつくられた。
ウ 日英同盟が結ばれた。 エ 韓国を併合した。

問4 ④について、次の文中の〔 〕に適する言葉を記入して、文を完成させなさい。

『国際連盟は、世界の国々が協力して、国際社会の〔 5文字 〕を守ろうとする、歴史上初めての組織である。』

問5 ⑤について、この年の8月9日に原子爆弾が投下された都市名を答えなさい。

問6 ⑥について、オリンピックの開催に合わせて開通した交通路として適するものを、次の中から選び、記号で答えなさい。

- ア 青函トンネル（青森～函館） イ 東海道新幹線（東京～大阪）
ウ 明石海峡大橋（本州～四国） エ 新東京国際空港（成田）

問7 ⑦について、沖縄の日本返還交渉にあたり、後にノーベル平和賞を受賞した総理大臣はだれですか。

4 次のA～Dの文章を読み、問1～問5に答えなさい。

- A 奈良時代の朝廷は、唐にたびたび遣唐使を送りました。造船や航海の技術が十分ではなかったため、航海は危険がともないました。唐の〔 ① 〕のように、何度も航海に失敗し、失明しながらも日本に渡って、a唐の仏教を伝えた僧もいました。
- B 〔 ② 〕は安土（滋賀県）に壮大な城を築き、天下統一の拠点にしました。bこれまで座が持っていた特権を取り上げ、城下の商人たちには、市の税を免除しました。自由な営業を認めて、商工業の発展をうながしました。さらに、物資や兵力を輸送しやすいように道路も整備し、各地の関所を廃止しました。
- C 開国後、幕府や長州藩・薩摩藩などは、欧米諸国に多くの留学生を派遣し、c政治・経済の制度や文化を学ばせました。幕府の使節に同行して海を渡った〔 ③ 〕は、欧米で見聞したことをもとに『西洋事情』という本を出版しています。
- D 江戸幕府は、d東海道などの五街道を整え、関所や宿駅を設けて、交通や通信も統制しました。明治になると、新橋・横浜間に初めて鉄道が開通し、数年後には神戸・大阪・京都間も開通しました。政府は、港や道路を建設し、海運会社に補助金を支給するなど、交通網の整備を図りました。

問1 文中の空欄〔 〕①～③にあてはまる人物名を答えなさい。

問2 下線部aについて、次の問いに答えなさい。

(1) この僧が日本に渡った理由として正しいものを次の中から選び、記号で答えなさい。

ア 唐で仏教が禁止されたため、日本に仏教を広めようと来日した。

イ 日本の仏教界に頼まれて、僧尼の守るべき生活の規律（戒律）を伝えるために来日した。

ウ 唐で仏教どうしの争いに負けたため、日本に新天地を求めて来日した。

エ 唐の皇帝の命を受けて、日本を仏教の力で征服するために来日した。

(2) 下線部aについて、この僧が日本に上陸した地点として正しいものを次の中から選び、記号で答えなさい。

ア 長崎 イ 串木野 ウ 平戸 エ 対馬 オ 博多 カ 坊津

キ 京都 ク 枕崎

問3 下線部bについて、これらのことを何というか。漢字4文字で答えなさい。

問4 下線部cについて、次の問いに答えなさい。

(1) 留学生としてヨーロッパに渡り、フランスの画風を学んで、『湖畔』や『読書』などの作品を発表した鹿児島出身の画家はだれですか。

(2) 人間の自由や権利を尊重する思想が、〔③〕や中江兆民らによって欧米諸国から紹介され、新たな思想を広めました。その一因と考えられる理由を、次の語句を用いて25字以内で説明しなさい。【 活字印刷 新聞 雑誌 】

問5 下線部dについて、次の問いに答えなさい。

(1) 東海道などの五街道の出発点として正しいものを次の中から選び、記号で答えなさい。

ア 日本橋 イ 江戸城 ウ 神田 エ 新橋

(2) 東海道の風景を題材に、優れた浮世絵を描いた絵師を次の中から選び、記号で答えなさい。

ア 東洲斎写楽 イ 十返舎一九 ウ 歌川広重 エ 菱川師宣

5 次のすずさんとあつしさんの会話文を読み、問1～問8に答えなさい。

すず：人権の問題は、日本だけの問題ではなく、人類全体の問題となっているのに、日本には、まだ沢山の差別が根強く残っていることを授業で学んだね。
 あつし：民族差別、部落差別等だね。
 すず：それ以外にも女性差別もあるよ。労働面でも、男性に比べるとだいぶ不利な立場に置かれているみたい。資料Ⅱでもそのことがよく分かるよ。
 あつし：資料Ⅲを見ると、2019年の全就業人口に占める割合は、女性が約（ ）割だね。これでも、2013年からだいぶ社会進出が進んでいることが分かるね。
 すず：でも、管理的職業従事者に占める女性の割合をみると、日本は1割代だね。
 あつし：①法律に「第6条 事業主は、労働者の配置、昇進及び教育訓練について、労働者が女性であることを理由として、男性と差別的取扱いをしてはならない。」とあるのにな。
 すず：まだ、長年にわたる男性優位の社会が改められていないということだね。
 あつし：女性が社会で活躍できるようにするためには、男性中心の社会のあり方を考え直し、女性が仕事をしやすい環境を整えることが必要だね。

資料Ⅰ

第1条 すべての人間は、生まれながらにして自由であり、かつ、尊厳と権利とについて平等である。人間は、理性と良心とを授けられており、互いに同胞の精神をもつて行動しなければならない。

資料Ⅱ

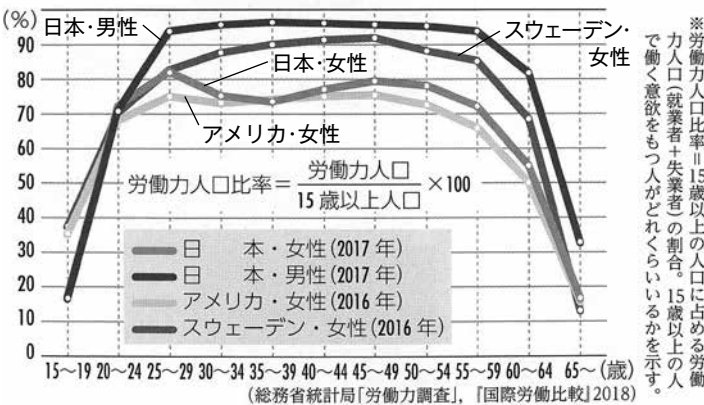
いうまでもなく同和問題は人類普遍の原理である人間の自由と平等に関する問題であり、日本国憲法によって保障された（①）にかかわる課題である。したがって、審議会はこれを未解決に放置することは断じて許されないことであり、その早急な解決こそ（②）の責務であり、同時に国民的課題であるとの認識に立って対策の探求に努力した。

資料Ⅲ 全就業者人口における男女別就業者の推移（総務省統計局）

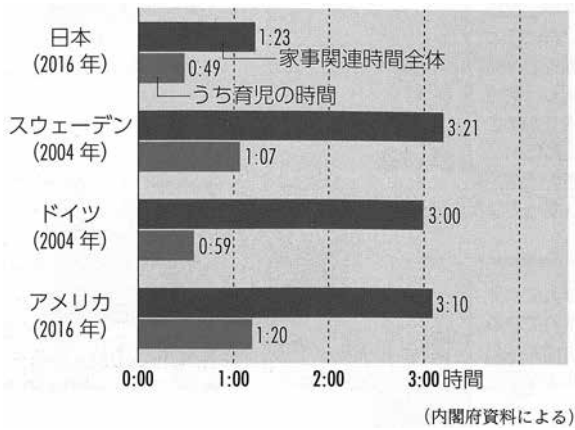
単位：万人

年	2013	2014	2015	2016	2017	2018	2019
男	3,620	3,635	3,639	3,655	3,672	3,717	3,733
女	2,707	2,737	2,764	2,810	2,859	2,946	2,992
全就業者	6,327	6,372	6,403	6,465	6,531	6,663	6,725

資料Ⅳ 女性の年齢階級別労働力人口比率



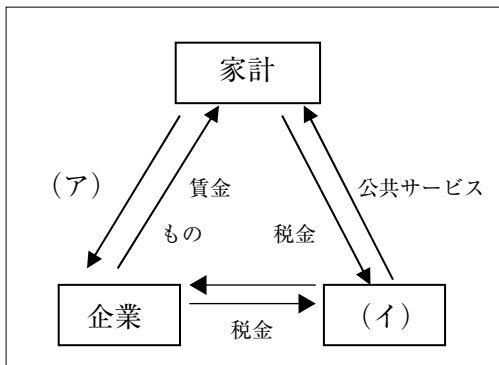
資料Ⅴ 6歳未満の子供を持つ夫の家事・育児関連時間（1日当たり、国際比較）



- 問1 資料Ⅰは、1948年に国際連合が採択した文書の一部です。この文書を何というか、答えなさい。
- 問2 資料Ⅱの文中（①）に入る語句を、次の中から選び、記号で答えなさい。
 ア 自由権 イ 平等権 ウ 社会権 エ 基本的人権
- 問3 資料Ⅱの文中（②）に入る語句を、次の中から選び、記号で答えなさい。
 ア 内閣総理大臣 イ 都道府県知事 ウ 国 エ 地方公共団体
- 問4 資料Ⅱは、1965年に出されたある答申の前文である。この答申名を答えなさい。
- 問5 会話文中の（ ）に最も適する数字を、資料Ⅲを参考にして、次の中から選び、記号で答えなさい。
 ア 2 イ 4 ウ 6 エ 8
- 問6 会話文中の下線部①の法律とは、1985年に制定されたものである。この法律名を答えなさい。
- 問7 1999年に制定された法律で、男女が対等な構成員として、家庭や地域、政治の場などのあらゆる場面で、男女がともに責任をもって役割を担っていくことを求めた法律は何というか答えなさい。
- 問8 資料Ⅳで、日本女性の30歳～39歳の労働力人口が低くなっているのはなぜか。その理由を資料Ⅴから読み取り答えなさい。

6 次の問1～問4に答えなさい。

問1 下の国民経済の循環に関する図を見て、次の(1)～(3)に答えなさい。



- (1) 左図の(ア)は、家計が企業からの「賃金」の対価として、企業に提供しているものである。それは何か。
- (2) 左図の(イ)は、経済活動を行う単位(主体)の一つである。それは何か。
- (3) 左図の「もの」には、形のある売り物と形のない売り物がある。形のある売り物を何というか。

問2 下の文を読み、次の問いに答えなさい。

消費者と商品やサービスを提供する企業とでは、契約内容や条件についての情報の量や質、また契約にいたる交渉力についても、大きな差がある。このため、消費者の利益を保護するため、2001年に法律が施行された。この法律では、企業側の不適切な勧誘があった場合は、クーリング・オフ制度の規定より長い期間でも、契約の取り消しができるようになった。

- (1) 文中の2001年に施行された法律とは何か、次の中から選び、記号で答えなさい。
 ア 消費者基本法 イ 消費者保護基本法 ウ 消費者保護法 エ 消費者契約法
- (2) クーリング・オフ制度で契約を解除できるものはどれか、次の中から選び、記号で答えなさい。ただし、契約者(購入者)は成人である。
 ア 訪問販売で1週間前に、10万円の宝石を購入する契約をした場合
 イ 化粧品の販売店で4日前に、20万円の化粧品を購入する契約をした場合
 ウ 自動車の販売店で1週間前に、250万円の自動車を購入する契約をした場合
 エ 総額2千円の商品をお店で4日前に購入し、商品も受け取り、代金も支払った場合

問3 下の文のような、企業が社会の一員として負う責任を何というか。答えなさい。

A社は、製造する飲料のもととなる貴重な地下水(天然水)を育む「森」の機能に着目した「天然水の森」活動を実施している。自社の工場で使う水の水源涵養(かんよう)エリアを「天然水の森」に設定し、その周辺の行政や森林所有者と森林整備の中長期的な協定を締結。森林がもつ機能(水源涵養、洪水・土砂災害などの防止、)の持続可能性向上を目指している。

※水源涵養とは、雨水を吸収して水源を保ち、あわせて河川の流量を調節するための森林。

問4 下のニュース記事を読み、次の問いに答えなさい。

総務省が発表した2020年5月の労働力調査によると、完全失業者は198万人と前年同月から33万人増えた。新型コロナウイルスの感染拡大で非正規社員の雇い止めなどが広がり、2017年5月以来3年ぶりの高水準となった。増加幅はリーマン・ショックの影響が出ていた10年1月以来の大きさだった。勤労者の所得はおさえこまれている。雇用と生活への不安が高まる今こそ、a労働組合の出番のはずだ。ところが全国の労働組合の組織率は昨年で16.7%にまで落ち込んだ。b〔あ、大企業、い、中小企業〕と比べて労働条件が悪く、組合がより必要なc〔あ、大企業、い、中小企業〕やパートの職場で熱心に組合活動をする人の姿はほとんど見られない。労働組合の力が低下し、市場競争の勢いだけが強まるのは、経済社会が健全なバランスを保つ上でも、好ましいことではない。

- (1) 下線部aについて書かれている法律名は何か。次の中から選び、記号で答えなさい。
 ア 労働基準法 イ 労働組合法 ウ 労働関係調整法 エ 労働組合基準法
- (2) 下線部b・cにあてはまる語句の記号の組み合わせとして正しいものを、次の中から選び、記号で答えなさい。
 ア [b:あ, c:あ] イ [b:あ, c:い] ウ [b:い, c:あ] エ [b:い, c:い]